



POLITECNICO MILANO 1863

FONDAMENTI DI AUTOMATICA

Corso di laurea in Ingegneria Fisica – Prof. F. Dercole
Appello del 18/7/2017

COGNOME: _____ NOME: _____

MATRICOLA o CODICE PERSONA: _____

FIRMA: _____ Visto del docente: _____

6	6	6	6	3	3	2
---	---	---	---	---	---	---

Voto totale

32

ATTENZIONE !

- Non è consentito consultare libri, appunti, ecc.
- Le risposte devono essere giustificate.
- Le soluzioni devono essere riportate solo sui fogli allegati.
- Sono valutati anche l'ordine e la chiarezza espositiva.

1) Un processo produttivo è composto di due fasi (A e B) da svolgersi in cascata, ciascuna della durata di 1 ora.

All'istante (=ora) t , una quantità $u(t)$ di nuovo materiale viene posta in lavorazione. Al termine della fase A, la frazione $0 < \alpha < 1$ di materiale lavorato è accumulata nelle scorte S , mentre la restante parte passa nella fase B. Al termine della fase B, la frazione $0 < \beta < 1$ di materiale lavorato è anch'essa accumulata nelle scorte S , mentre la restante parte è sottoposta a un controllo di qualità (di durata trascurabile) che stabilisce che, mediamente, la frazione $0 < \gamma < 1$ deve ripetere la lavorazione a partire dalla fase A. La restante parte, quella cioè che passa con successo il controllo di qualità, ha terminato la lavorazione.

- Descrivere il processo produttivo mediante un sistema lineare a tempo discreto di ordine 3 (fase A, fase B, scorte S), in cui l'uscita $y(t)$ rappresenti la quantità di materiale che ha terminato la lavorazione.
- Discutere la stabilità del sistema al variare di (α, β, γ) .
- Discutere e calcolare gli stati di equilibrio del sistema per u costante.
- Determinare la funzione di trasferimento, discutendo il risultato ottenuto.

Soluzione [se necessario proseguire sul retro]:

$$\begin{aligned}
 \text{a)} \quad x_1(t+1) &= u(t) + \gamma(1-\beta)x_2(t) \\
 x_2(t+1) &= (1-\alpha)x_1(t) \\
 x_3(t+1) &= \alpha x_1(t) + \beta x_2(t) + x_3(t) \\
 y(t) &= (1-\gamma)(1-\beta)x_2(t)
 \end{aligned}$$

$$\text{b)} \quad A = \left[\begin{array}{ccc|c} 0 & \gamma(1-\beta) & 0 & 0 \\ 1-\alpha & 0 & 0 & 0 \\ \alpha & \beta & 1 & 1 \end{array} \right] \quad \begin{aligned} \lambda_1 &= 1 \\ \lambda_{2,3} &= \pm \sqrt{\gamma(1-\alpha)(1-\beta)} \end{aligned}$$

Siccome $0 < \alpha, \beta, \gamma < 1$, $|\lambda_{2,3}| < 1 \quad \forall \alpha, \beta, \gamma$,
 quindi A è SEMPLICEMENTE STABILE ($\lambda_1 = 1$):
 con ingresso $u=0$ (movimento libero), $x_3(t) \neq 0$
 se $x_3(t) \neq 0$.

$$\text{c)} \quad \left\{ \begin{array}{l} x_1 = u + \gamma(1-\beta)x_2 \\ x_2 = (1-\alpha)x_1 \\ x_3 = \alpha x_1 + \beta x_2 + x_3 \end{array} \right\} \Rightarrow \begin{aligned} x_1 &= \frac{1}{1-\gamma(1-\alpha)(1-\beta)} u \\ x_2 &= \frac{(1-\alpha)}{1-\gamma(1-\alpha)(1-\beta)} u \end{aligned}$$

- se $u \neq 0 \Rightarrow x_1, x_2 \neq 0 \Rightarrow \nexists$ equilibrio per x_3 .
- se $u = 0 \Rightarrow x_1, x_2 = 0 \Rightarrow \exists \infty$ eq: x_3 qualsiasi

$$\text{d)} \quad \left\{ \begin{array}{l} z x_1 = u + \gamma(1-\beta)x_2 \\ z x_2 = (1-\alpha)x_1 \\ z x_3 = \alpha x_1 + \beta x_2 + x_3 \\ y = (1-\gamma)(1-\beta)x_2 \end{array} \right\} \Rightarrow G(z) = \frac{(1-\gamma)(1-\beta)(1-\alpha)}{z^2 - \gamma(1-\alpha)(1-\beta)}$$

(NB: perdita di grado,
 x_3 non influenza y .)

2) Si consideri il sistema seguente, avente stato $(x, y) \in \mathbb{R}^2$:

$$\begin{aligned}\dot{x} &= x(1-x) - p \\ \dot{y} &= -2y\end{aligned}$$

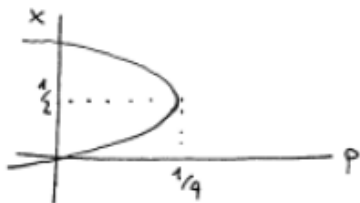
- a) Determinare gli stati di equilibrio al variare di $p \in (-\infty, +\infty)$.
 b) Studiare, per ogni p , la stabilità degli equilibri sopra determinati mediante il metodo di linearizzazione.
 c) Nei due casi $p=0$ e $p=1$, discutere il quadro delle traiettorie descrivendone gli elementi fondamentali (eventuali equilibri e loro varietà stabili/instabili, alcune traiettorie non rettilinee).

Soluzione [se necessario proseguire sul retro]:

$$a) \begin{cases} x(1-x) - p = 0 \\ -2y = 0 \end{cases} \Rightarrow \begin{cases} x^2 - x + p = 0 \\ y = 0 \end{cases} \rightarrow \text{deve avere soluzione reale:}$$

se $1 - 4p > 0$: \exists 2 equilibri distinti:
 $\left(x = \frac{1 \pm \sqrt{1-4p}}{2}, y = 0 \right)$

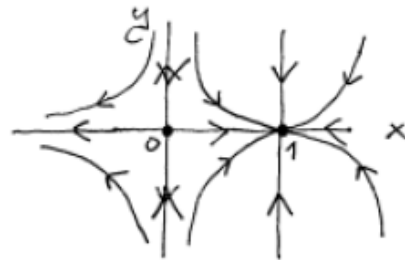
se $1 - 4p = 0$: \exists 1 equilibrio: $\left(x = \frac{1}{2}, y = 0 \right)$
 se $1 - 4p < 0$: \nexists equilibri



b) $J = \begin{vmatrix} 1-2x & 0 \\ 0 & -2 \end{vmatrix}$ se $1-4p > 0$: $1-2x = 1 - 2 \left(\frac{1 \pm \sqrt{1-4p}}{2} \right) = \mp \sqrt{1-4p}$
 Dette x^1, x^2 le ascisse dei 2 eq.,
 abbiamo x^1 ASINT. STABILE (nodo)
 x^2 INSTABILE (sella)

se $1-4p = 0$, $J = \begin{vmatrix} 0 & 0 \\ 0 & -2 \end{vmatrix}$, non è possibile concludere nulla mediante linearizzazione.

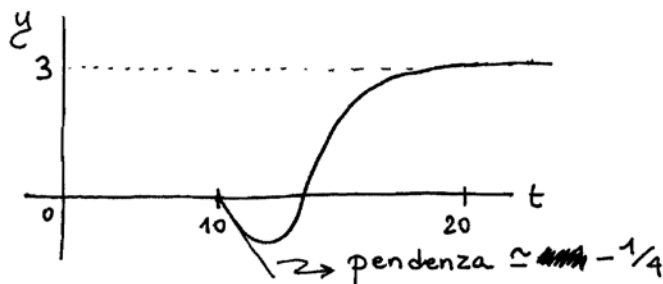
c) $p=0$: equilibri: $\begin{cases} x=1 \\ y=0 \end{cases} \quad J = \begin{vmatrix} -1 & 0 \\ 0 & -2 \end{vmatrix}$
 $\begin{cases} x=0 \\ y=0 \end{cases} \quad J = \begin{vmatrix} 1 & 0 \\ 0 & -2 \end{vmatrix}$



$p=1$: \nexists equilibri $y(t) = e^{-2t} y(0) \rightarrow 0$
 $\dot{x} = x(1-x) - 1 < 0 \quad \forall x$



3) In figura è rappresentata la risposta allo scalino unitario (applicato in $t = 0$) rilevata sperimentalmente su un sistema.



a) Determinare una funzione di trasferimento $G(s)$ compatibile con la rilevazione sperimentale.

b) Determinare (in modo qualitativo) e rappresentare graficamente la risposta all'impulso del sistema ottenuto mettendo in cascata a $G(s)$ il sistema con funzione di trasferimento

$$H(s) = \frac{1}{s(25s^2 + 10s + 26)}$$

Soluzione [se necessario proseguire sul retro]:

a) Ritardo puro di 10.

Sistema esternamente stabile, $G(0) = y_{\infty} = 3$.

$$T_R \approx 10 \Rightarrow T_D \approx 2$$

1 estremo \Rightarrow 1 zero superiore "instabile", poiché $\dot{y}(10) < 0$

$$\begin{array}{c} \text{Im} \\ \times \times \times \\ \hline \text{Re} \end{array} \quad G(s) = 3 \frac{1-s\tau}{(1+sT_1)(1+sT_2)} e^{-10s}$$

$$\text{Scelgo } T_1 = T_2 = 2 (= T_D), \quad \dot{y}(10) = -\frac{3\tau}{4} = -\frac{1}{4} \Rightarrow \tau = \frac{1}{3}$$

$$G(s) = 3 \frac{1-s^{1/3}}{(1+2s)^2} e^{-10s}$$

$$b) F(s) = G(s)H(s) = \frac{3}{s} \frac{1-s^{1/3}}{(1+2s)^2(25s^2+10s+26)} e^{-10s}$$

Risp. impulso di F coincide con Risp. SCALINO di

$$\tilde{F}(s) = 3 \frac{1-s^{1/3}}{(1+2s)^2(25s^2+10s+26)} e^{-10s}$$

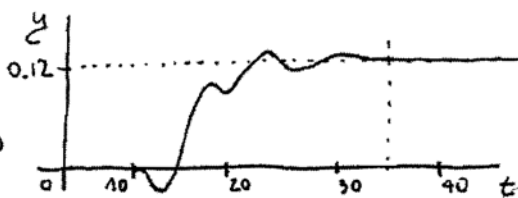
poli complessi: $-\frac{1}{5} \pm i$

\tilde{F} est. stabile (tutti i poli hanno $\text{Re}(p) < 0$)

$$y_{\infty} = \tilde{F}(0) = 3/26 \approx 0.12$$

$$\tilde{F} = 3 : \dot{y}(10) = \ddot{y}(10) = \ddot{\ddot{y}}(10) = 0$$

$$\ddot{\ddot{y}}(10) = -1/100 < 0$$

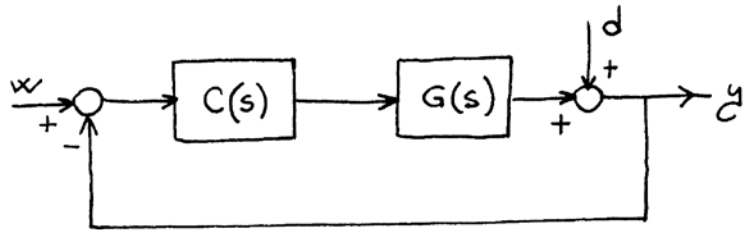


$$T_D = 5 \Rightarrow T_R = 25 \text{ (+10 ritardo puro)}$$

$$\tau_{osc} \approx \frac{2\pi}{\text{Im}(p)} = 2\pi$$

4) Si consideri il sistema di controllo in figura, in cui

$$G(s) = \frac{0.1}{(1+100s)(1+0.1s)(1+s)}$$



a) Determinare un controllore $C(s)$, con esattamente 1 polo e 1 zero, tale che:

- il sistema di controllo sia esternamente stabile;
- l'errore a transitorio esaurito dovuto al riferimento costante sia nullo;
- il tempo di risposta sia (approssimativamente) pari a 5.

b) Per il sistema di controllo così ottenuto, calcolare il margine di fase e la banda passante.

c) Determinare l'errore a transitorio esaurito dovuto al disturbo $d(t) = 10 + \sin(0.01t)$.

Soluzione [se necessario proseguire sul retro]:

a) Per soddisfare il secondo requisito, è indispensabile che $C(s)$ abbia un polo $s=0$ (tipo $g=1$) quindi:

$$C(s) = \frac{\mu}{s} (1+s\tau)$$

Poiché $\tau=100$ (lo zero di $C(s)$ elimina il polo in bassa frequenza di $G(s)$) si ottiene $L(s) = \frac{0.1\mu}{s(1+0.1s)(1+s)}$.

Per $\mu=10$:

$$\omega_c = 1,$$

$$\varphi_c = -\frac{\pi}{2} - \arctan 0.1$$

$$-\arctan 1 = -\frac{\pi}{2} - 0.1 - \frac{\pi}{4}$$

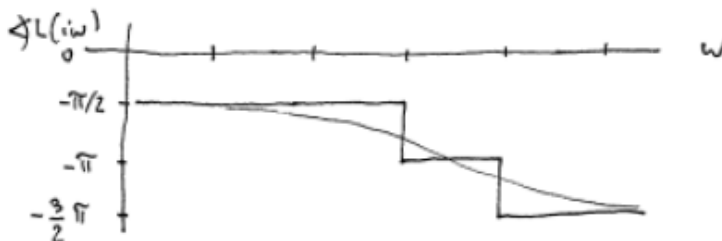
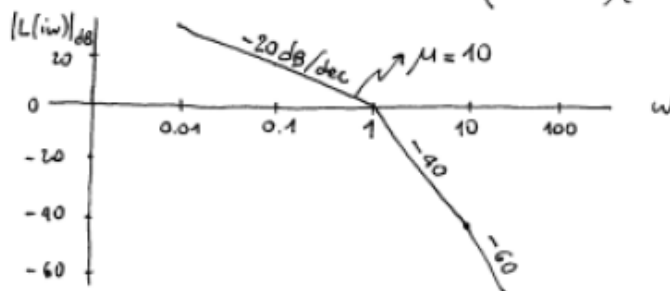
$$\approx -2.455$$

$$\varphi_m = \pi - |\varphi_c| = 0.685 \text{ [rad]}$$

$$\approx 39^\circ$$

\Rightarrow sistema di controllo esternamente stabile

$$\Rightarrow T_R \approx \frac{5}{\omega_c} = 5$$



b) $\varphi_m \approx 39^\circ$ (vedi a), $BP = (0, \omega_c) = (0, 1)$

c) Poiché $g=1$, la componente costante di $d(t)$ genera errore nullo. Quindi:

$$e_{ss}(t) = \left| \frac{1}{1+L(i0.01)} \right| \sin(0.01t + \varphi)$$

$$\approx \frac{1}{|L(i0.01)|} \approx \frac{1}{100}, \text{ poiché } 0.01 \ll \omega_c = 1.$$

5) Definire il concetto di sistema "a memoria finita".

6) Si consideri un sistema lineare asintoticamente stabile, con costante di tempo dominante $T_d = 3$ secondi. Se al sistema viene applicato l'ingresso $u(t) = 10\sin(2t)$, a regime

- [1] l'uscita vale 0, qualunque sia il sistema
- [2] l'uscita vale 0, se e solo se il sistema ha guadagno $\mu = 0$
- [3] l'uscita è una sinusoide di pulsazione $\omega = 2$, per ogni $x(0)$
- [4] l'uscita è una sinusoide di pulsazione $\omega = 2\pi/2$, per ogni $x(0)$

(scegliere - e motivare - la risposta corretta)

7) Illustrare i comandi Matlab per simulare l'andamento dell'uscita del sistema dinamico

$$\begin{aligned}x(t+1) &= \begin{bmatrix} -1 & 1 \\ 2 & 0.5 \end{bmatrix} x(t) + \begin{bmatrix} 1 \\ 0 \end{bmatrix} u(t) \\ y(t) &= [2 \quad -1]x(t) + 3u(t)\end{aligned}$$

partendo dalla condizione iniziale $x(0) = [-1 \quad 2]^T$, su un orizzonte di $T = 10$ unità di tempo, con ingresso costante $u = 2$.

Risposte ai quesiti 5-6-7 [se necessario proseguire sul retro]:

5)

Il sistema a tempo discreto $x(t+1) = A x(t)$ si dice "a memoria finita" se il suo movimento libero si azzerava in tempo finito; cioè, se esiste $m > 0$ (intero) tale che $\phi(m)x(0) = A^m x(0) = 0$, per ogni $x(0)$.

6)

Per il teorema della risposta in frequenza, applicando un ingresso sinusoidale a un sistema asintoticamente stabile otteniamo, a transitorio esaurito, un'uscita sinusoidale della medesima frequenza, qualunque sia $x(0)$. Quindi la risposta corretta è la [3].

7)

```
sys = ss([-1,1; 2,0.5], [1; 0], [2, -1], 3, 1);  
lsim(sys, 2*ones(10, 1), 0:10, [-1; 2])
```